

## Photo-problème

1



Le mécanicien doit dévisser tous les boulons pour changer les 4 pneus de la voiture. **Combien de boulons va-t-il devoir dévisser ?**

## Photo-problème

2



Sur cet étal de marché, j'ai acheté toutes les barquettes de fraises pour pouvoir faire de la confiture. **Combien cela va-t-il me coûter ?**

## Photo-problème

3



Mon petit frère s'est amusé à compter tous les points dessinés sur ce tableau. **Combien en a-t-il trouvés ?**

## Photo-problème

4



Chez moi, il y a 18 marches comme celles-ci. **Combien a-t-il fallu de carreaux pour toutes les recouvrir ?**

Photo-problème

5



Mamie partage le paquet de madeleines entre ses 4 petits-enfants. **Combien de madeleines auront-ils chacun ?**

Photo-problème

6



A l'ouverture du supermarché, 29 clients viennent d'emprunter un caddie. **Combien y avait-il de caddies avant l'arrivée des clients ?**

Photo-problème

7



Si 28 voitures sortent du parking, **que va afficher le compteur ?**

Photo-problème

8



Sur le parking du Pré de Foire, il y a actuellement 214 voitures. **Combien reste-t-il de places disponibles ?**

## Photo-problème

9



A l'ouverture de la boulangerie, il y avait 13 tartelettes aux framboises et 9 tartelettes au citron. **Combien de tartelettes ont été vendues ?**

## Photo-problème

10



Le maire de la ville veut installer 75 nouveaux lampadaires comme celui-ci. **Combien d'ampoules va-t-il devoir acheter ?**

## Photo-problème

11



Si 45 personnes sont assises dans ce compartiment, **combien reste-t-il de places libres ?**

## Photo-problème


12



Les agents municipaux doivent tracer 12 nouveaux passages piétons comme celui-ci. **Combien faudra-t-il tracer de bandes ?**

## Photo-problème

13



Voici une feuille de gommettes tirée d'un paquet de gommettes. **Combien y avait-il de gommettes avant qu'on en enlève ?**

## Photo-problème

14



La maitresse a acheté de nouveaux livres, si elle range 12 livres dans cette bibliothèque. **Combien y aura-t-il de livres ?**

## Photo-problème

15



Est-ce que 134 voitures peuvent entrer dans ces deux parkings ?

## Photo-problème

16



Chaque matin, je me prépare un verre de jus d'orange, voici les restes des oranges que j'ai utilisées. **Combien d'oranges vais-je devoir acheter pour deux semaines ?**

Photo-problème

17



Au restaurant scolaire, le cuisinier a besoin de 20 briques de crème fraîche pour faire des pâtes à la carbonara. Il a 7 packs comme celui-ci dans sa réserve. **A-t-il assez de crème fraîche pour faire les pâtes ?**

Photo-problème


18



Je dois faire des photos d'identité, je choisis de faire 4 formules « mini photos ». **Combien cela va-t-il me faire de photos en tout ?**

Photo-problème

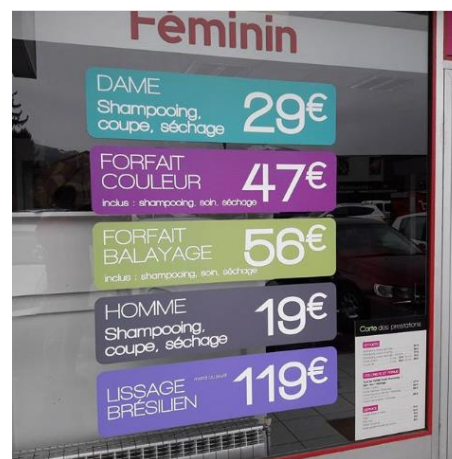
19



J'ai déjà monté 27 marches de cet escalier pour aller au stade. **Combien de marches contient cet escalier ?**

Photo-problème

20



Ce matin le coiffeur s'est occupé de 2 dames et d'1 homme. Une des dames a fait un forfait couleur et l'autre un lissage brésilien. **Combien d'argent a-t-il gagné ?**