


Petites énigmes à partir des photos reçues des élèves ...

Série 1



Combien de veaux sont derrière Anaëlle ? 2



Combien de feutres sont posés sur la table de Camille ? 4



Combien de pions de couleur rouge sont placés sur le jeu d'Avina ? 4  
et combien de couleur jaune ? 3



Quel chiffre Célyan doit-il placer après le 5 ? 6



Compte les arbres affichés sur le tableau d'Aglaë et Candice ! 4




Combien vois-tu de bandes devant Antonin ? 7

Combien de blocs Célestine a-t-elle utilisés ? **10** Si tu enlèves ceux qui sont de couleur rouge, combien va-t-il en rester ? **6**




Trouve le nombre de bacs d'Aglaë et Candice ! **7**



Compte les cercles **3**, les triangles **3**, les rectangles **6** utilisés par Avina !

Essaie de lire les chiffres écrits sur le vêtement de Victor ! **5** et **8**



Compte les objets alignés par Avina sur la première ligne puis sur la seconde ! Que remarques-tu ? **8** et **8** égalité

Essaie de lire séparément les chiffres écrits sur le pantalon de Julien ! **9** et **6**

