




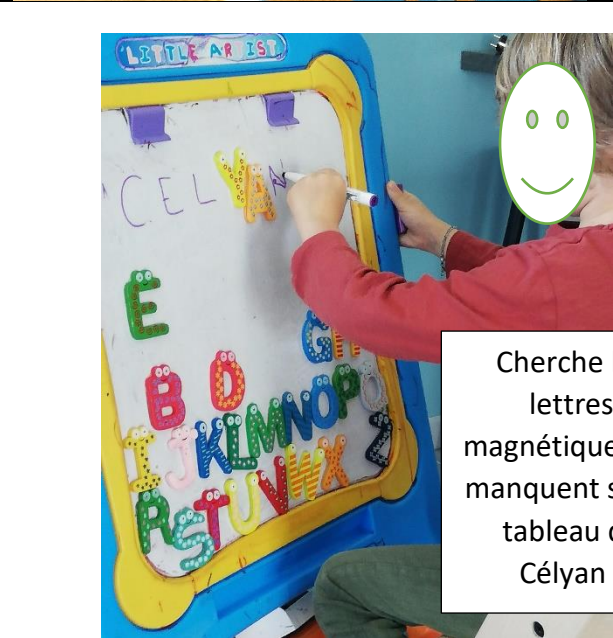
Combien de pièces de puzzle restent à placer sur la table de Chloé ?



Compte le nombre de triangles sur les deux jeux d'Avina.



Combien de pattes à la Licorne ?





Cherche les lettres magnétiques qui manquent sur le tableau de Célyan !



Célestine a placé les lettres **A**, **B**, et **C**. Quelle sera la lettre suivante ?

Combien de mots Anaëlle a-t-elle trouvés ?





Compte les objets rangés par Avina !



Essaie de compter tous les cookies cuisinés par Maddy et Gabrielle !



Combien de barres horizontales et de lignes verticales voit-on sur la clôture derrière Apolline ?

Sais-tu combien il y a d'objets rangés par Aglaë et Candice ?



Et combien de poupées russes Adèle a-t-elle rangées ?



Compte les cartes qu'Avina tient dans sa main !

