

Super Ours avait 3
biscuits il en mange 1,
combien en a -t-il mis
dans la boîte?



Super Lapin et Super
Grenouille jouent aux dés
qui a gagné?



Super Lapin a pris une
photo des rennes du Père
Noël, combien en a-t-il
vu?



Super Lapin et Super
Grenouille ont eu des billes
en cadeau, combien Super
Grenouille en a-t-elle de
plus que Super Lapin?




Super Ours, est gourmand
regarde ses fèves, combien
a-t-il mangé de galettes?





Combien Super Lapin doit-il prendre de couronnes pour que tous les personnages en aient une?




Super Ours a mangé 3
pommes rouges et 3
pommes vertes... Combien
en a-t-il mangé en tout?



Super Grenouille est allé voir
le spectacle de Casse-Noisette.
Il a acheté le Casse-Noisette
du milieu en souvenir, de quelle
couleur est-il?




Super Lzpin dessine 4
cercles, il veut en colorier 2
en jaune, combien resteront
en blanc?



Super Ours veut faire le
même bonhomme de neige,
combien de cailloux noirs
doit-il prendre?



Quel Super a la carte la plus forte?




Quel Super a une couronne
avec des triangles et des
carrés?




Super Ours a préparé la
table pour le goûter,
combien de copains doivent
venir?



Super Lapin a acheté 6
carottes. Il va en manger 2
pour le petit déjeuner, 2
pour le goûter, combien en
aura-t-il pour le soir?





Super Ours veut faire la même construction de cubes. Combien doit-il en prendre?



Où est le ballon de Super
Grenouille?



Super Lapin veut une forme
avec 3 côtés pour décorer
son chapeau? Laquelle va-
t-il prendre?



Super Lapin range ses
jouets, qui est en dessous du
Petit Chaperon Rouge?



Super Grenouille veut
colorier une forme avec 4
sommets. Laquelle va-t-il
choisir?



Qui a le moins
de bonbons?




Super Lapin a mis ses
animaux dans un train, qui
est le dernier ?



Super Grenouille, a 3
livres, combien en aura-t-
elle si Super Ours lui en
donne encore 1?



Super Ours fait un collier
de perles, quelles doivent
être les couleurs des perles
suivantes?



Combien de points a
Super Grenouille grâce
à toutes ses cartes?

