



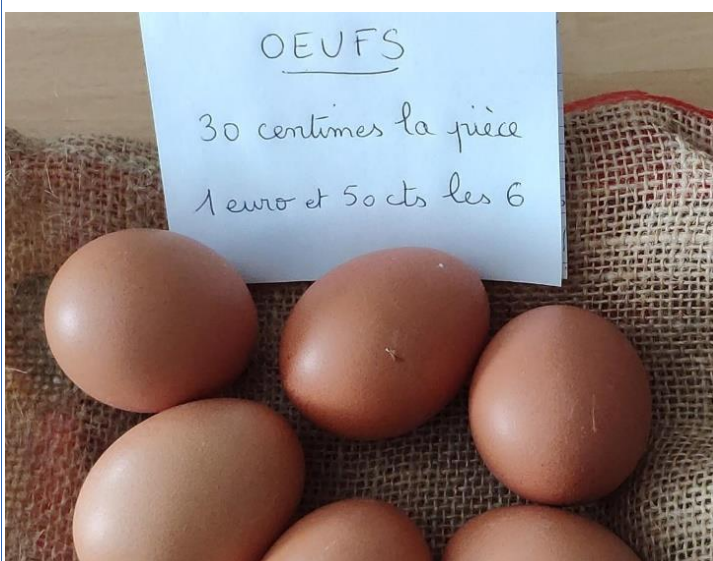
Une semaine à la carte avec M@ths en-vie



Consigne






- 1 - Associez chaque photo avec ses 4 énoncés correspondants.
- 2 - Pour chaque photo, choisissez un énoncé de problème à résoudre suivant son niveau de difficulté.



en partenariat avec



Énoncés de problèmes ↓	 Une semaine à la carte avec Moths en vie	 Niveau
Dans un centre commercial, une boutique de sport organise un déstockage pour vendre ses fins de série. Quel est le montant de la réduction sur ces baskets ?		*
Combien coûtent 6 kg de poitrine de porc fumée ?		**
Ma mère demande d'abord 10 pains aux raisins à la vendeuse de la boulangerie puis lui demande d'en rajouter car elle craint qu'il n'en y ait pas assez. La vendeuse lui demande alors de régler la somme de 7,10 euros. Combien de pains aux raisins la vendeuse a-t-elle rajoutés ?		**
J'achète trois barquettes de fraises. Quel est le montant de mon achat ?		*
Tom a acheté 4 pains aux raisins à la boulangerie et donne un billet de 5 euros au boulanger. Quel montant ce dernier doit-il rendre à Tom ?		*
Combien coûtent 10 œufs si on les achète à la pièce ?		*
Noah a dépensé 136,99 € dans une boutique de sport. Il a acheté une paire de basket et un survêtement. Quel est le prix du survêtement ?		**
Quelle est la différence de prix entre 1 kg de viande séchée et 1 kg de coppa ?		**
Paul achète 5 œufs. On lui rend 50 centimes. Quelle somme a-t-il donnée au vendeur ?		**
J'ai un billet de 5 euros. J'achète une barquette. Combien doit-on me rendre ?		*
Avec 300€, combien de paires de basket puis-je acheter ? Combien me restera-t-il ?		***
Paul achète de la charcuterie. Il prend 1 kg de viande séchée des Alpes. On lui rend 25,30 €. Quelle somme a-t-il donnée au vendeur ?		*
Combien coûtent 4 paires de baskets ?		**
Kevin a 20 euros. Il achète 3 barquettes. Combien lui restera-t-il ?		***
A la boucherie, Luc achète 1 kg de Coppa et 1 kg de poitrine de porc fumée. Combien va-t-il dépenser ?		*
Combien vont coûter 30 pains aux raisins		**
Quelle est la différence de prix entre un lot de 6 œufs et 6 œufs à l'unité ?		**
A la fin du marché, le vendeur vend les 3 barquettes à 12 euros. Combien lui rapporte une barquette ?		**
Quel est le prix unitaire du pain aux raisins si on les achète par lot de 10 ?		***
Paul achète 12 œufs, puis il en fait rajouter encore. Il paie alors 3,90€. Combien d'œufs a-t-il pris en plus ?		***

	<p>Dans un centre commercial, une boutique de sport organise un déstockage pour vendre ses fins de série. Quel est le montant de la réduction sur ces baskets ?</p>	*
	<p>Noah a dépensé 136,99 € dans une boutique de sport. Il a acheté une paire de basket et un survêtement. Quel est le prix du survêtement ?</p>	**
	<p>Combien coûtent 4 paires de baskets ?</p>	**
	<p>Avec 300€, combien de paires de basket puis-je acheter ? Combien me restera-t-il ?</p>	***
	<p>Tom a acheté 4 pains aux raisins à la boulangerie et donne un billet de 5 euros au boulanger. Quel montant ce dernier doit-il rendre à Tom ?</p>	*
<p>Ma mère demande d'abord 10 pains aux raisins à la vendeuse de la boulangerie puis lui demande d'en rajouter car elle craint qu'il n'en y ait pas assez. La vendeuse lui demande alors de régler la somme de 7,10 euros. Combien de pains aux raisins la vendeuse a-t-elle rajoutés ?</p>	**	
<p>Quel est le prix unitaire du pain aux raisins si on les achète par lot de 10 ?</p>	***	
<p>Combien vont coûter 30 pains aux raisins</p>	**	
<p>J'achète trois barquettes de fraises. Quel est le montant de mon achat ?</p>	*	
<p>J'ai un billet de 5 euros. J'achète une barquette. Combien doit-on me rendre ?</p>	*	
<p>A la fin du marché, le vendeur vend les 3 barquettes à 12 euros. Combien lui rapporte une barquette ?</p>	**	
<p>Kevin a 20 euros. Il achète 3 barquettes. Combien lui restera-t-il ?</p>	***	
<p>Combien coûtent 10 œufs si on les achète à la pièce ?</p>	*	
<p>Paul achète 5 œufs. On lui rend 50 centimes. Quelle somme a-t-il donnée au vendeur ?</p>	**	
<p>Quelle est la différence de prix entre un lot de 6 œufs et 6 œufs à l'unité ?</p>	**	
<p>Paul achète 12 œufs, puis il en fait rajouter encore. Il paie alors 3,90€. Combien d'œufs a-t-il pris en plus ?</p>	***	
<p>A la boucherie, Luc achète 1 kg de Coppa et 1 kg de poitrine de porc fumée. Combien va-t-il dépenser ?</p>	*	
<p>Paul achète de la charcuterie. Il prend 1 kg de viande séchée des Alpes. On lui rend 25,30 €. Quelle somme a-t-il donnée au vendeur ?</p>	*	
<p>Quelle est la différence de prix entre 1 kg de viande séchée et 1 kg de</p>	**	
<p>Combien coûtent 6 kg de poitrine de porc fumée ?</p>	**	