


ENIGME

des anneaux

Défi élève



~~1~~ 2 3 4 5 6 7 ~~8~~ ~~9~~

Mathématiques 13-20 mars 2024
L'important c'est de participer
Semaine des mathématiques 13^e édition

ENIGME

des anneaux



Placer tous les nombres de 1 à 9.
La somme des nombres de chaque anneau doit être égale à 11.

Attention, tous les nombres doivent être utilisés. On ne peut pas utiliser deux fois le même nombre.

D'après JL Sigrist



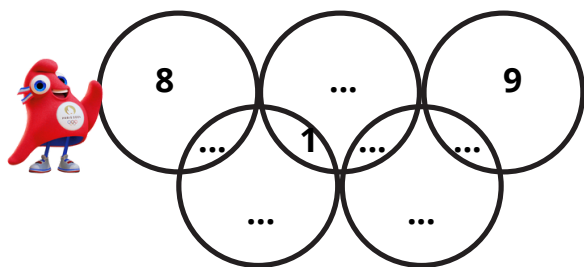
Circonscription THONON-LES-BAINS & Circonscription EVIAN-LES-BAINS



ENIGME

des anneaux

Défi élève



~~1~~ 2 3 4 5 6 7 ~~8~~ ~~9~~

Enigme cycle 2

Mathématiques 13-20 mars 2024
L'important c'est de participer
Semaine des mathématiques 13^e édition

ENIGME

des anneaux



Placer tous les nombres de 1 à 9.
La somme des nombres de chaque anneau doit être égale à 11.

Attention, tous les nombres doivent être utilisés. On ne peut pas utiliser deux fois le même nombre.

D'après JL Sigrist




Circonscription THONON-LES-BAINS & Circonscription EVIAN-LES-BAINS



ENIGME

des anneaux

Défi famille




1 2 3 4 5 6 7 8 9

ENIGME

des anneaux

Défi famille



1 2 3 4 5 6 7 8 9