

1 2 3 4 5 6 7 8 9

ENIGME

des anneaux




Placer tous les nombres de 1 à 9.
La somme des nombres de chaque anneau
doit être égale à 11.

Attention, tous les nombres doivent être utilisés. On ne peut pas utiliser deux fois le même nombre.


D'après JL Sigrist



Circonscription
THONON-LES-BAINS
&
Circonscription
EVIAN-LES-BAINS



1 2 3 4 5 6 7 8 9



1 2 3 4 5 6 7 8 9

ENIGME

des anneaux




Placer tous les nombres de 1 à 9.
La somme des nombres de chaque anneau
doit être égale à 11.

Attention, tous les nombres doivent être utilisés. On ne peut pas utiliser deux fois le même nombre.

D'après JL Sigrist



Circonscription
THONON-LES-BAINS
&
Circonscription
EVIAN-LES-BAINS



1 2 3 4 5 6 7 8 9